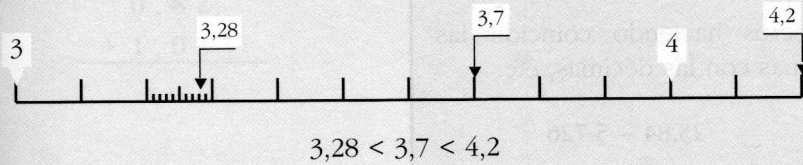
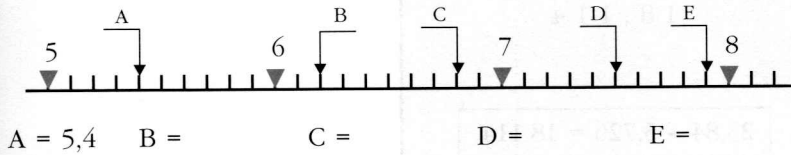


## Representación de números decimales

Los números decimales se representan y quedan ordenados en la recta numérica.




4. Escribe el valor que corresponde a cada letra.



5. Coloca cada letra en el lugar que le corresponda de la recta.

M = 2,59    N = 2,63    P = 2,68    Q = 2,72



6. Escribe, en euros, el dinero que tiene cada uno.



Y ordena de menor a mayor esas cantidades.

<  <  <  <

7. Completa cada casilla con un número que tenga una cifra decimal.

$1 < \square < 2$

$3,5 < \square < 3,7$

$4 < \square < 4,5$

$6,8 < \square < 7$