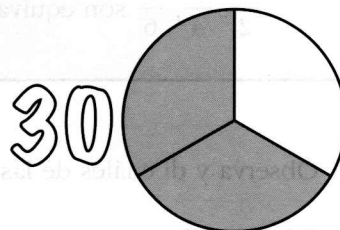


5. Un kilo de filetes cuesta 12 euros. ¿Cuánto cuestan tres cuartos de kilo?


6. Un kilo de cerezas cuesta 5 euros. ¿Cuánto cuestan tres cuartos de kilo?

7. En la clase somos 30 entre chicos y chicas. En las elecciones para delegados hemos votado a Marta dos tercios de la clase. ¿Cuántos votos ha tenido Marta?



8. Un teatro tiene 600 butacas y esta noche solo se han vendido dos de cada tres. ¿Cuántas personas están viendo la función?

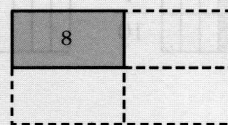
9. De un bidón de 15 litros de aceite solo quedan dos quintos de su contenido. ¿Cuántos litros quedan en el bidón?



10. Un cuarto de kilo de jamón cuesta 8 euros. ¿A cómo está el kilo?

INTERPRETA EL ENUNCIADO

Si un cuarto del total son 8 € y las cuatro partes son iguales...



11. Tres cuartos de kilo de salami han costado 6 €. ¿A cómo está el kilo?

